

فصل

٣


2 3

+

5

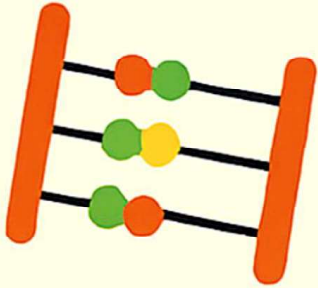



5



4

4

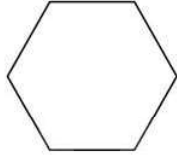


A

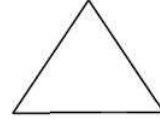


ریاضی دوم دبستان

۶- درباره ی این شکل ها هر چه می دانید بنویسید.



.....
.....



.....
.....


۷- الگوهای عددی و هندسی زیر را کامل کنید.



۱ ، ۳ ، ،

۶:۱' ، ۶:۲' ، ۶:۳' ، ،

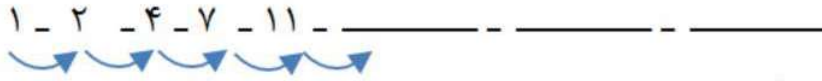
۲:۳' ، ۳ ، ۳:۳' ، ،




۱ ، ۴ ، ،

ریاضی دوم دبستان

۸- سه عدد بعدی را بنویسید.

۱ - ۲ - ۴ - ۷ - ۱۱ - _____


۲۵ - ۳۰ - ۳۵ - _____ - _____ - _____



 ۱ ، ۳ ، _____ ، _____ ، _____

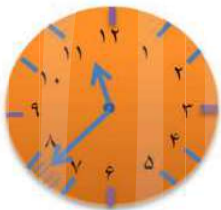
۹- این اعداد را به صورت دیجیتالی بنویسید.

۸ ۵ ۲ ۶

۱۰- چه چیزهایی را می شناسید که در آن ها اعداد دیجیتالی استفاده شده باشد. (سه مورد)

.....

۱۱- ساعت چند است؟ (به صورت دیجیتالی بنویسید.)



_____ : _____



_____ : _____



۱۲- سارا ساعت ۵ به همراه مادرش به پارک رفتند، اگر نیم ساعت بعد برگردند ساعت چند می شود؟ روی ساعت نشان بدهید.

ریاضی دوم دبستان

۱۳- ساعت ۳۰: ۱۱ است. یک ربع بعد ساعت چند می شود؟



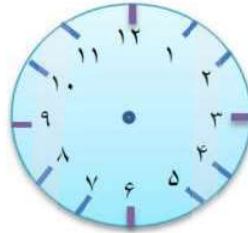
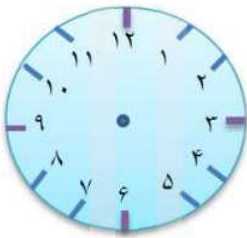
۱۴- زمانی را که ساعت نشان می دهد به دو صورت بنویسید.

.....
.....

۱۵- زمان های زیر را روی ساعت نشان دهید.

ب- نیم ساعت بعد از ۳

الف- یک ربع مانده به ۴



۱۶- به سوالات زیر پاسخ دهید.

- ساعت ۵ است. دو ساعت و ربع دیگر چند ساعت است؟

- هر یک ساعت چند تا ربع دارد؟

- هر یک ساعت چند تا نیم دارد؟

- یک ربع قبل از ساعت ۲۰: ۱ دقیقه ساعت چند بوده است؟

۱۷- الگوهای زیر را ادامه دهید.

۶ ، ۱۳ ، ۲۰ ، ، ، ، ،

۲ ، ۳ ، ۵ ، ، ، ،

۲۸ ، ۲۴ ، ۲۰ ، ، ، ،

اداره آموزش و پرورش
آزمون فصل (۳) ریاضی پایه ی دوم

نام و نام خانوادگی:
مدت آزمون: ۴۰ دقیقه
تاریخ آزمون: .../.../...

بارم	شرح سوالات	ردیف
------	------------	------

با استفاده از شابلون " یا به صورت دستی و با خط کش " شکل های خواسته شده را رسم کنید.

نام شکل	مستطیل	مربع	لوزی	شش ضلعی	مثلث	دایره
محل رسم شکل						
تعداد ضلع
تعداد ضلع

۱

گوشه ها را در هر یک شکل ها سبز رنگ کنید.
ضلع ها را در هر کدام از شکل های بالا قرمز رنگ کنید.
در شکل های هندسی تعداد ضلع ها با تعداد گوشه های داخل شکل است.

هر ساعت چه زمانی را نشان می دهد؟ به دو صورت بنویسید.



۲

.....
.....

.....
.....

.....
.....

.....
.....


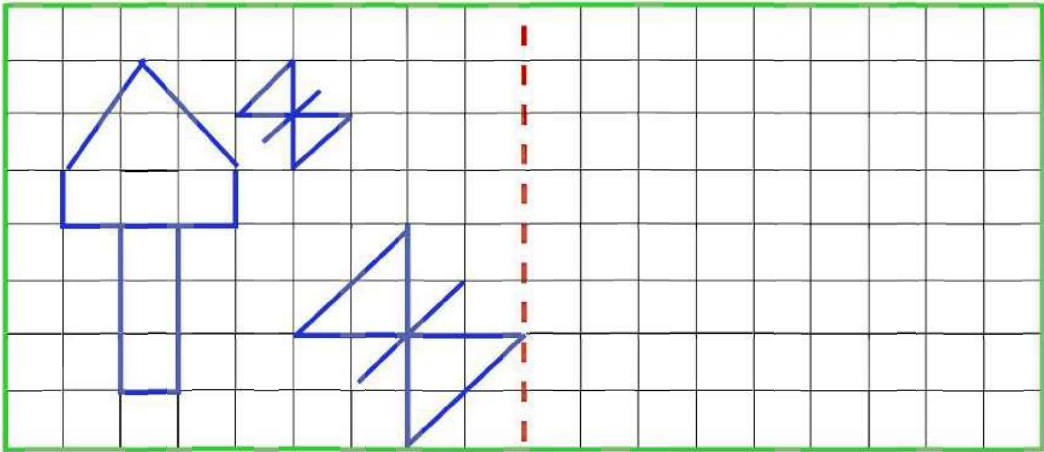
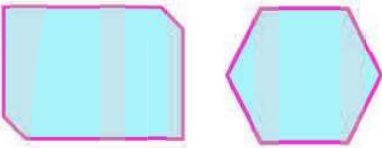

با توجه به خط های تقارن کاشی کاری ها طوری تکمیل کنید که مثل هم و قرینه باشند.



۳

((موفق باشید.))

ادامه ی آزمون فصل (۳) ریاضی پایه ی دوم

بارم	شرح سوالات	ردیف
	<p>نقطه ها را با خط کش به هم وصل کرده و شکلی را که خواسته شده ، بکشید. " ۴ ضلع و ۴ گوشه دارد. " ((دوتا از ضلع هایش مساوی است.))</p> <p>" ۶ ضلع و ۶ گوشه دارد. "</p> 	۴
	<p>باتوجه به خط تقارن نیمه ی دیگر شکل ها را کامل کنید.</p> 	۵
	<p>شباهت و تفاوت شکل های داده شده را بنویسید.</p>  <p>شباهت :</p> <p>تفاوت :</p>	۶
	<p>شکل های داده شده را به قسمت های مساوی تقسیم کنید.</p> 	۷

((موفق باشید.))