

۱. عددهای خواسته شده را روی محور زیر نشان دهید.

$\frac{2}{3}$  واحد بعد از ۳

$\frac{1}{4}$  واحد مانده به ۲




۲. الان ساعت ۱۵:۴۰ است. جمله‌ها را با توجه به آن کامل کنید.

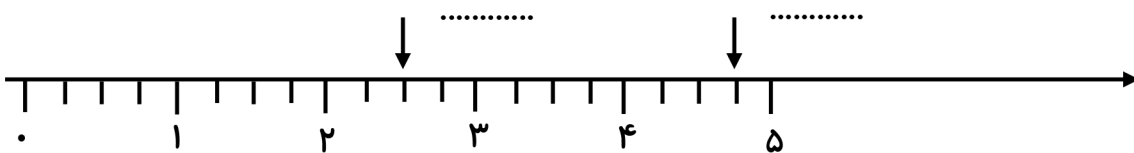
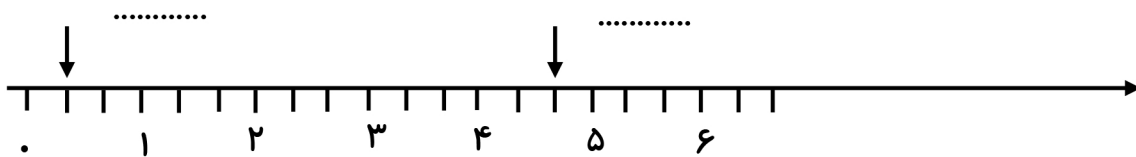
ساعت ..... دقیقه مانده به .....

..... دقیقه از ساعت ..... گذشته است.

عدد مخلوط این ساعت برابر است با .....

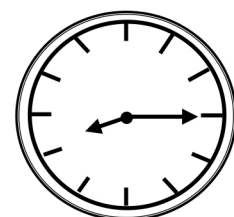

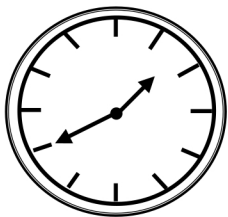


۳. با توجه به محور داده شده در جاهای خالی عدد مناسب بنویسید.



۴. کسری بنویسید که صورت آن ۲ و مخرج آن ۸ تا بیشتر از صورتش باشد. ....

۵. شکل‌های زیر چه کسری از ساعت را نشان می‌دهند؟



۶. حاصل عبارت‌های زیر را به دست آورید.

$$\frac{14}{10} - \frac{2}{10} + \frac{5}{10} =$$

$$\frac{5}{9} - \frac{3}{9} =$$

$$\frac{18}{20} + \frac{5}{20} - \frac{10}{20} =$$

$$\frac{4}{7} + \frac{3}{7} =$$